

Систематизација

Још један велики поздрав за све вас. Подсећања ради, ово би трбало да буде и последњи час математике на овај начин. Верујем да сте успешно решили све задатке са предходног часа. Данас понављамо све оно што смо радили ове недеље.

Надам се да ће те успешно одговорити (решити) следеће задатке.

1. На следећој слици приказан је део планираних авионских долазака у Београд. Пажљиво погледај представљене податек и запиши које све информације можеш да добијеш везане за доласке авиона у наш главни град.



ДОЛАСЦИ

Време на аеродрому

Темп Притисак Ветар



18°C

1020mB

5.14m/s

временска прогноза

25.06.

26.06.

27.06.






15°C / 23°C

15°C / 25°C

16°C /
25°C

Kursna lista

Valuta	Srednji	Promena
 CHF	84.2203	+0.99 %
 USD	70.5888	+0.53 %
 EUR	100.7443	+0.26 %

Broj leta	Polazni aerodrom	Planiran	Izlaz	Tip aviona	Napomena
JU 115	SKOPJE	06:50	A3	Boeing 737-300	Sleteo u 06:50
JA 1376	SARAJEVO	07:15	C3	ATR 72	Sleteo u 07:10
JU 661	PODGORICA	07:20	C4	ATR 72	Sleteo u 07:08
YM 200	TIVAT	09:10	C2	Fokker 100	Sleteo u 09:42
WZZ 4092	DORTMUND	10:30	A5	Airbus Industrie A320	Sleteo u 10:12
JU 4109	ANTALYA	10:55	A4	Boeing 737-300	Sleteo u 11:07
OS 7131	VIENNA	12:05	C1	ATR 72	Sleteo u 12:04

- 1) _____
- 2) _____
- 3) _____
- 4) _____
- 5) _____
- 6) _____
- 7) _____

2. Пет најдужих река које читавим током протичу кроз Србију су :

Јужна Морава (295 km)

Западна Морава (308 km)

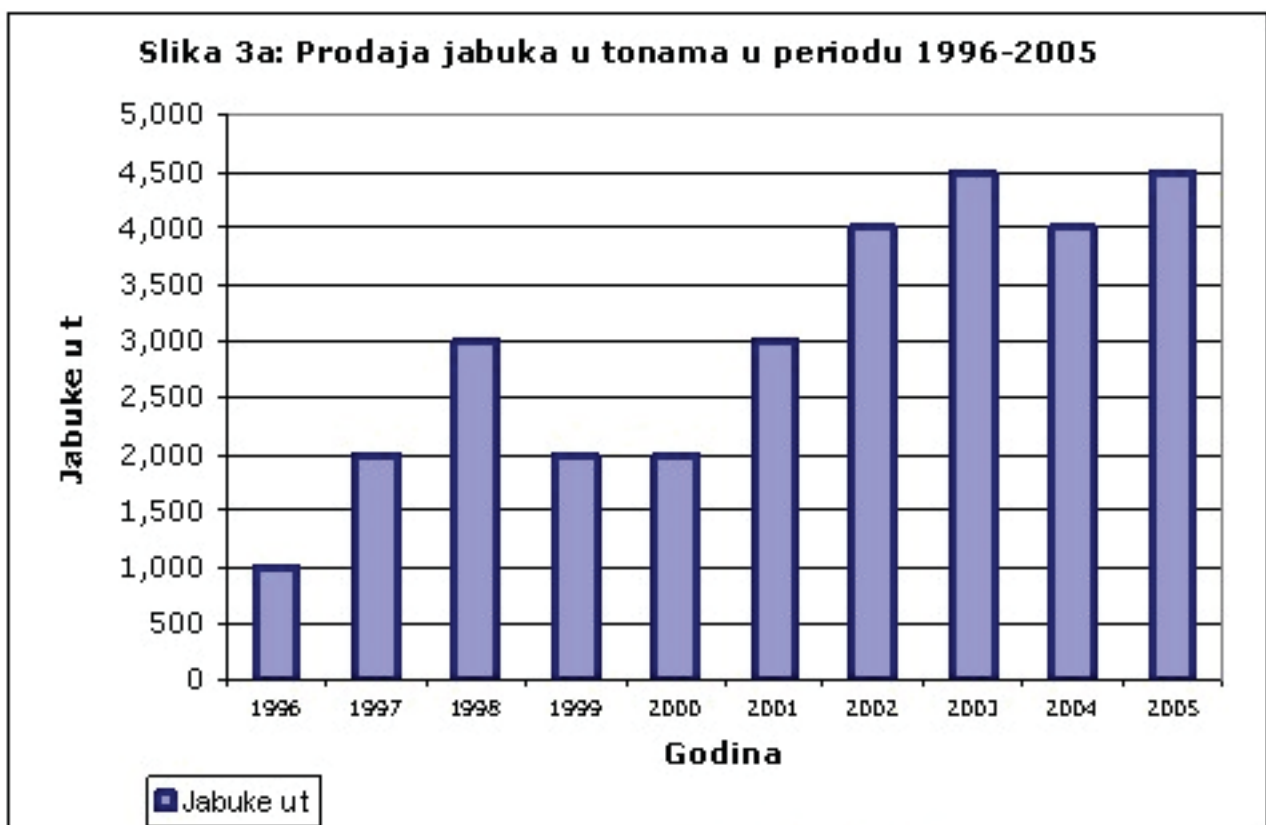
Тимок (202 km)

Велика Морава (185 km)

Ибар (272km)

- Направите графикон на основу датих података.

3. Пажљиво погледајте дати графикон и одговорите на питања или допуните одговор:



- а) Шта је приказано на овом графикону?
- б) За који период су приказани дати подаци?

в) Којих година је остварена најбоља продаја?

г) Које године су резултати продаје били најслабији?

д) Наведите године када је продаја јабука била изједначена

- _____
- _____
- _____

ђ) Која је највећа количина продатих јабука изражено у тонама? _____

4. На овом графикону приказани су подаци о гледаности филмова различитих жанрова, који су прикупљени на основу анкете.



Шта све можете закључити посматрајући овај графикон?

Напишите најмање пет тврдњи.

- 1) _____
- 2) _____
- 3) _____
- 4) _____

Ово би било све за овај час. Велики поздрав и видимо се ускоро.